

تمهيد



# الأرقام

الفصل الدراسي الأول



جمع وترتيب  
محمد حسن محمد  
(طارق السعيد)

اسم الطفل : \_\_\_\_\_  
الحضانة : \_\_\_\_\_  
مشرفة الفصل : \_\_\_\_\_  
التليفون : \_\_\_\_\_

# مُقَلَّمَةٌ

أحبي ... اخوة الإسلام

هذا الكتاب الأول من مرحلة التمهيدي من سلسلة (عَلْمُهُ الْبَيَّان) وفيه يتم التعرف على الأعداد حتى العدد (١٠) ويتم التعرف فيه على بعض المفاهيم الرياضية وذلك لتنمية قدرات ومهارات الطفل وللاستفادة من الكتاب تراعى التنبيهات التالية :

- استحضار النية الصالحة في تدريس مادة هذا الكتاب وذلك للوصول بأطفال المسلمين إلى التميز في مادة الحساب لخدمة دين الإسلام ونصرته .
- نحرص على حل التدريبات بالكتاب على السبورة قبل دراستها في الكتاب .
- تُعلق لوحة للأرقام حتى رقم (١٠) بالفصل ويتم قرائتها يومياً بترتيب وبدون ترتيب .

ملحوظة : قراءة التنبيهات التربوية والتعليمية أسفل كل صفحة مع التطبيق التام لها وعدم التهاون بها .

أخيراً : هذه الكتاب أردنا به النفع لأبناء المسلمين ... فما كان من تقصير فمن أنفسنا ولكن لا تحرمنا النصح والإرشاد والدعاء لنا بالهدى والسداد .



ولمعرفة الجديد والمفيد تواصل معنا عبر موقعنا على الإنترنت

<https://www.tarekelsaeed.com>



01110666305

01008845491

الأستاذ / طارق السعيد

# نُدرِب على مسك القلم

لاحتِظْ ولون



الشخِبطَة أَى الكِتَابَة بَدُون تَركِيزِ هِي بَدَايَة تَعَلِم الكِتَابَة وَمَسْكَ القَلَمِ.




للمعلم  
والآباء.



# تدريب على مسك القلم



لا حظ، ولون



يمر المتعلم على النقط بالقلم ثم يكمل بقية المربع تلوين .

للمعلم  
والآباء.

# تدريب على مسك القلم

لاحظ ولون



A large rectangular area with a pink border and three horizontal dashed blue lines for handwriting practice.

A vertical rectangular area with a green border and three vertical dashed pink lines for handwriting practice.



A large empty circle with a blue border, intended for coloring or drawing.

يمر المتعلم على النقط ثم يكمل بقية الأشكال تلوين -

للمعلم  
والآباء.



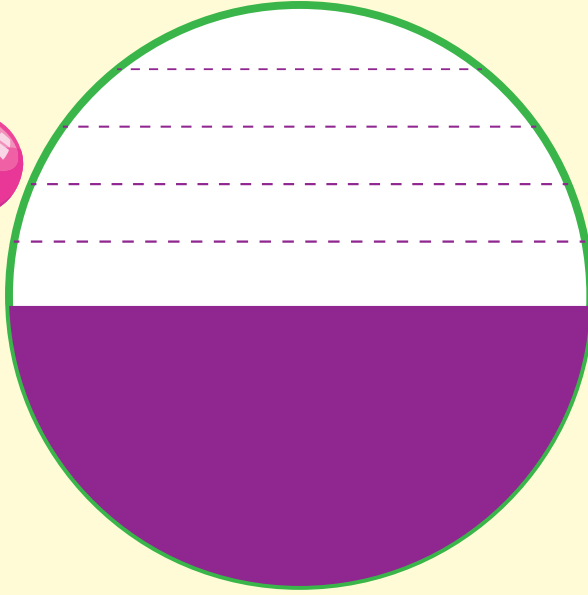
- |    |   |   |   |   |   |   |   |   |   |
|----|---|---|---|---|---|---|---|---|---|
| ١٠ | ٩ | ٨ | ٧ | ٦ | ٥ | ٤ | ٣ | ٢ | ١ |
|----|---|---|---|---|---|---|---|---|---|



# تدريب على مسك القلم



لاحظ ولون



كثرة أسئلة الطفل علامة من علامات الذكاء وحب المعرفة .



للمعلم  
والآباء.



# الاحظ النقط وأرسم مثلها

@O@@@@O@@@@.ii@ääT


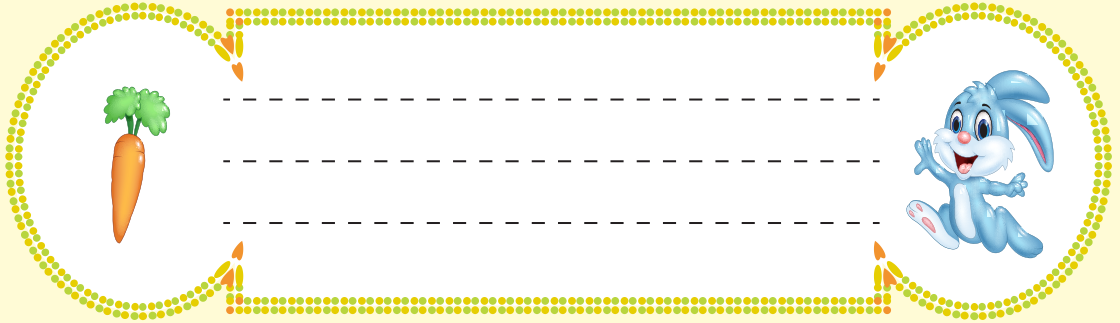
لاحظ ولون 



يقوم المتعلم بعمل عشر نقط ( • ) في كل مربع.

للمعلم  
والآباء.

١٠ ٩ ٨ ٧ ٦ ٥ ٤ ٣ ٢ ١



هام جدا المرور على النقط بالقلم أكثر من مرة .



للمعلم  
والآباء.



# نبتع طريق الوصول

@O@@@O@@@@.ii@ää

لاحظ ولون



هام جدا المورور على النقط بالقلم أكثر من مرة .

للمعلم  
والآباء.

١٠ ٩ ٨ ٧ ٦ ٥ ٤ ٣ ٢ ١


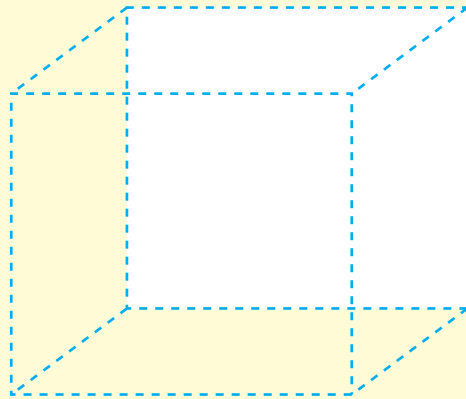



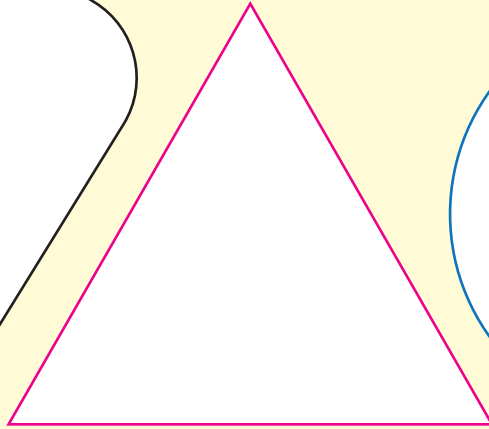
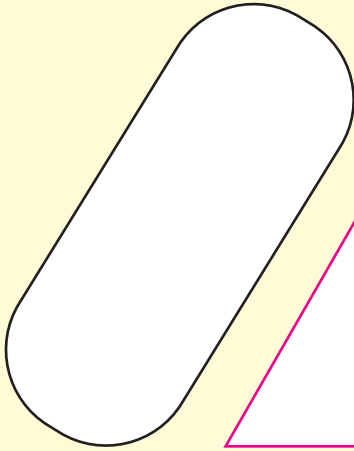


# تتبع التقط بداية من النقطة الحمراء وحتى السهم



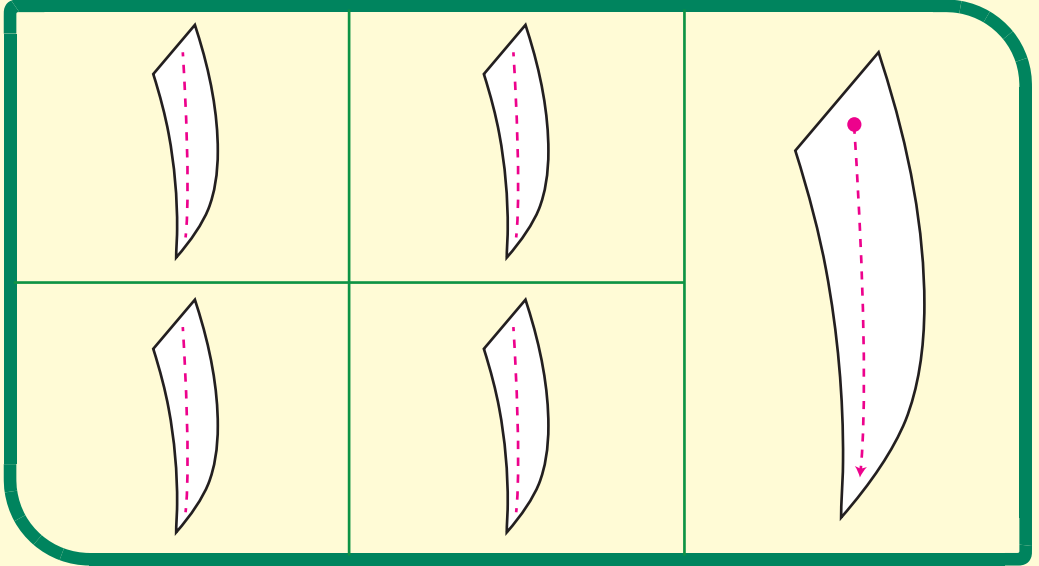
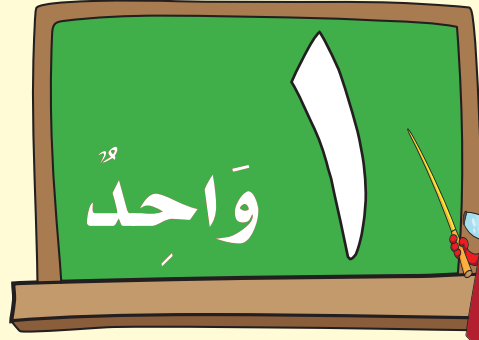
هام جدا المرور على التقط بالقلم أكثر من مرة .

للمعلم  
والآباء.




كن هادئاً عند معالجة المشاكل فالفصل في المواقف لا يعني الصراخ ولا فرض القوة .

للمعلم  
والآباء.



ضع علامة ✓ أو ✗ أمام المجموعة التي تحتوي على عنصر واحد

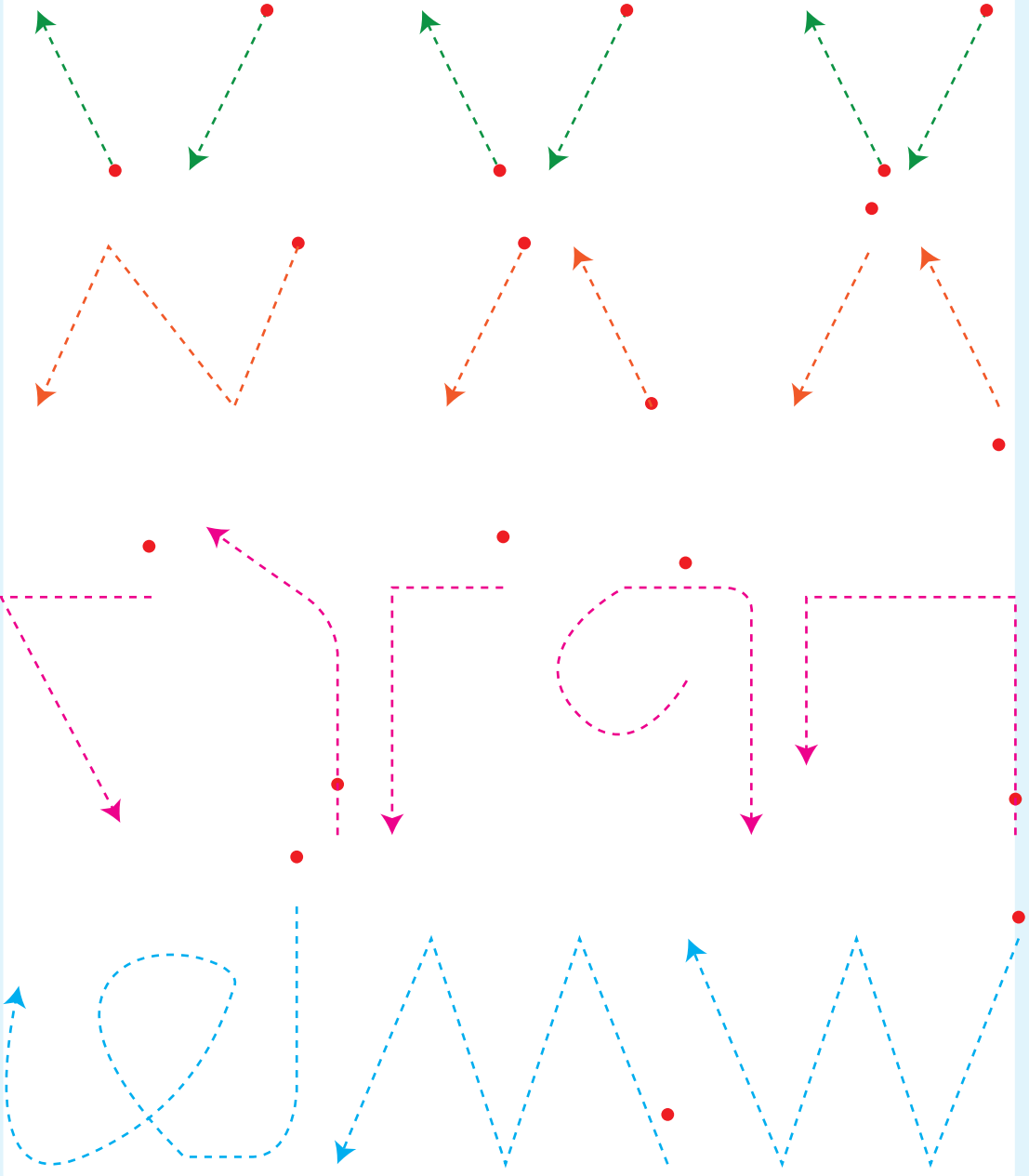


هام جداً أن يبدأ المتعلم التلوين بداية من النقط داخل الرقم ثم يكمل بقية العدد تلوين -

للمعلم  
والآباء.

# تتبع النقط بداية من النقطة الحمراء وحتى السهم

لاحظ ولون



الهدف من هذه الأشكال تدريب المتعلم على طريقة كتابة الأعداد فلنحرص على المرور عليها بدقة .

للمعلم  
والآباء.

١٠ ٩ ٨ ٧ ٦ ٥ ٤ ٣ ٢ ١

# تتبع التقط

@O@@@O@@@@.ii@ëät

لا حظ ولون

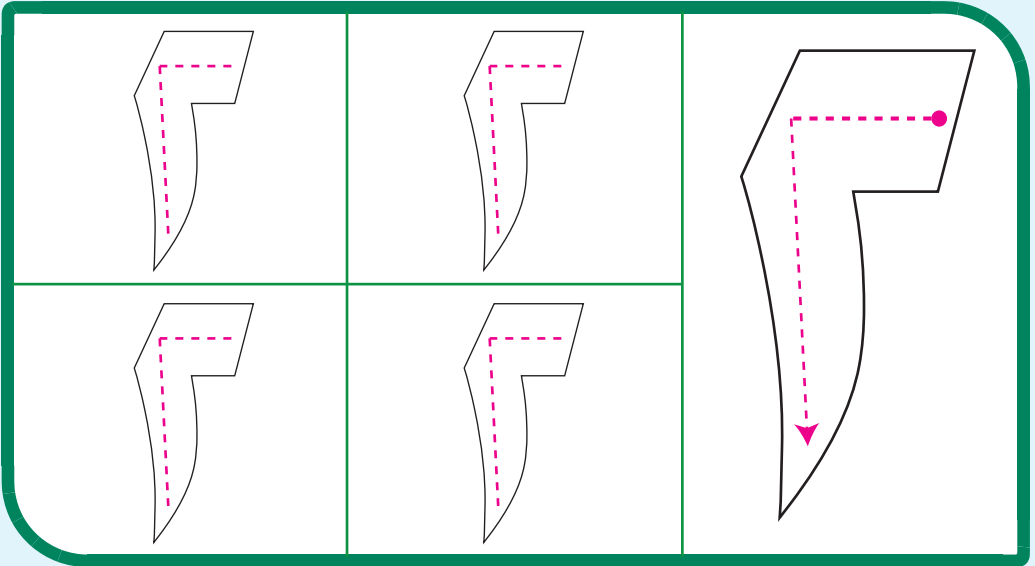
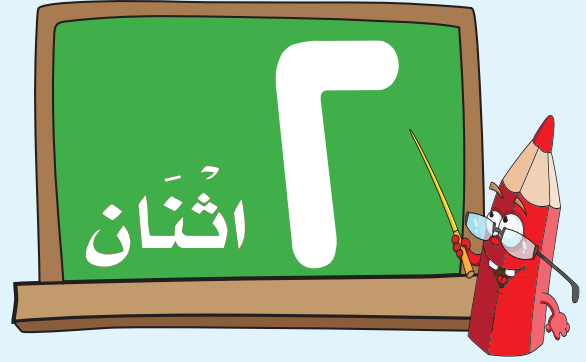



وزع نظراتك على أطفالك وأنت تحدثهم وإياك والتحقيق لطفلك أمام الناس .

للمعلم  
والآباء.

١٠ ٩ ٨ ٧ ٦ ٥ ٤ ٣ ٢ ١

١٠





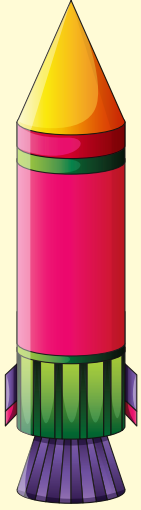
عد وصل بالرقم الصحيح




هام جدًا قراءة الأعداد أسفل الصفحة عند دراسة كل صفحة .

للمعلم  
والآباء.

لَوْن حسب العدد المطلوب



لَوْن العدد الأصغر



لا تداعب طفلك بعبارات أو ألفاظ فيها تجريح مثل يا حمار ، يا غبي فافرق  
كبيرين المداعبة والإهانة .



للمعلم  
والآباء.




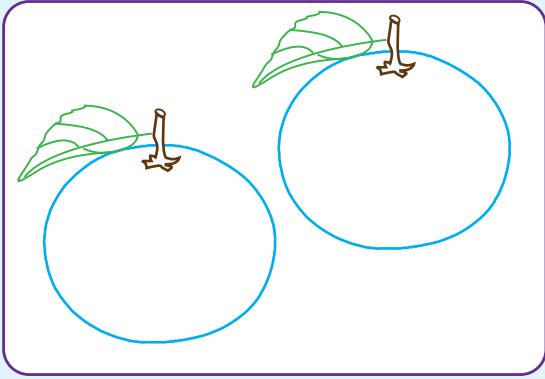
## تابع اختبار الشهر الأول

@O@@@O@@@@.ii@ëä

تتبع النقط واكتب



لوحة العدد الأكبر



عد واكتب العدد الصحيحة



من صفات المربي الناجح أن يكون حليماً صبوراً واسع الصدر يستطيع أن يكظم غيظه  
فلا يفضب لأتفه الأسباب .


للمعلم  
والآباء.

١٠ ٩ ٨ ٧ ٦ ٥ ٤ ٣ ٢ ١


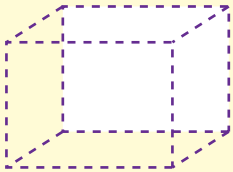

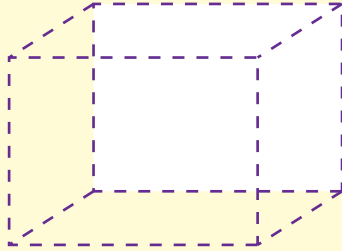
مفاهيم رياضية

كبير و صغير

رسم رقم (١) تحت الشكل الأصغر ورقم (٢) تحت الشكل الأكبر



لون الشكل الأصغر



إذا قمت بتقدير طفلك بسبب شيء معين قم بعد ذلك بمدحه على موضوع آخر أحسن التصرف فيه .

للمعلم  
والآباء.



مفاهيم رياضية

طويل و قصير

نشاط رقم (٢) تحت الشكل الأكبر وضع (١) تحت الرقم الأصغر

Two rectangular boxes are connected by a horizontal line. The left box contains a large dolphin illustration and a pink sticky note with a pencil icon. The right box contains a smaller clownfish illustration and a blue sticky note with a pencil icon.

Two rectangular boxes are connected by a horizontal line. The left box contains a shorter palm tree illustration and a pink sticky note with a pencil icon. The right box contains a taller palm tree illustration and a blue sticky note with a pencil icon.

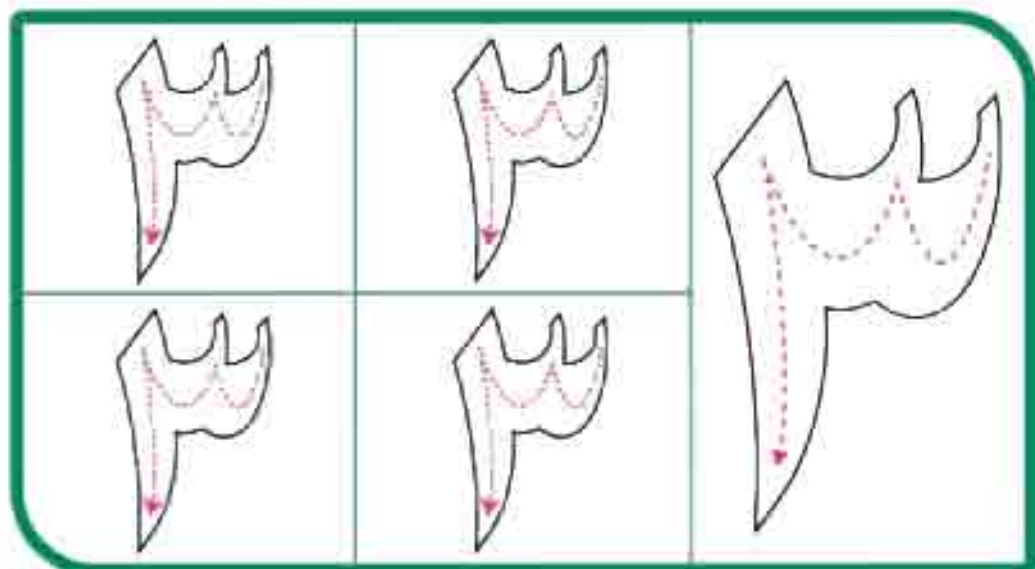
لوحة الشكل الأصغر

A rectangular box with a colorful border. On the left is a shorter street lamp illustration. On the right is a taller street lamp illustration.

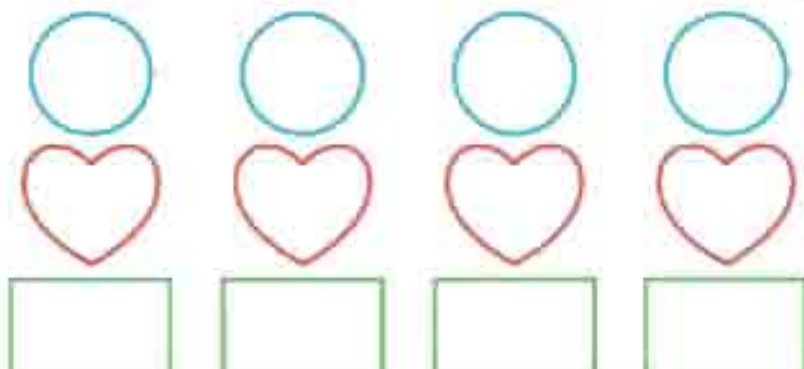
A rectangular box with a colorful border. On the left is a red balloon illustration. On the right is a green balloon illustration.

التعامل مع الطفل بشدة وتسلب يولدي نفسه الخوف وعدم الثقة بالنفس والقلق والخجل .

المعلم والياء.



لون طبقاً للعدد



تمر على التقطيع الأعداد ثم تكمل بقية العدد تكوين.

للمعلم  
والأب



اقرأ ولو




اقرأ واكتب


قراءة الأعداد أسفل الصفحة عند دراسة كل صفحة .

للمعلم  
والوالد

لونه حسب العدد كالتالي الأول



Handwriting practice section with four rows of shapes and numbers:

- Row 1: Two white circles, two green circles, and a red number '٢' (2).
- Row 2: Five white squares and an orange number '٥' (5).
- Row 3: Four white flowers and a green number '٤' (4).
- Row 4: Five white hexagons and a blue number '٥' (5).

صنك الأشكال الهندسية مع لونه



قم بدور الناصح الأمين ليس تعطيك فقط ولكن لأصدقاءك أيضًا .

للمعلم  
والوالد.

نصف رقم ٢ , أصل الشكل الصغير ونصف رقم ٤ , أصل الشكل الكبير



نصف واكتب العدد الصحيح



الأب الصالح قدوة لأطفاله منه يتعلمون الأخلاق الحسنة فكن أنت ذلك .

المعلم  
والأب

أرسم حسب العدد كما في أمثالك الأول



1

□

2

○

3

△



4

○

عدد رقم ( ٢ ) أسفل الشكل الصغير و رقم ( ٤ ) أسفل الشكل الكبير

2

4

2

4

تحقيق أكثر من ختمة للتلاوة قبل دخول المدرسة من أهم وسائل تنمية مهارة الحساب .

للمعلم  
والأب



# مفاهيم رياضية

## اليمنى واليسرى



مع معلم أو أم



١ الكرة على يسار الطفل

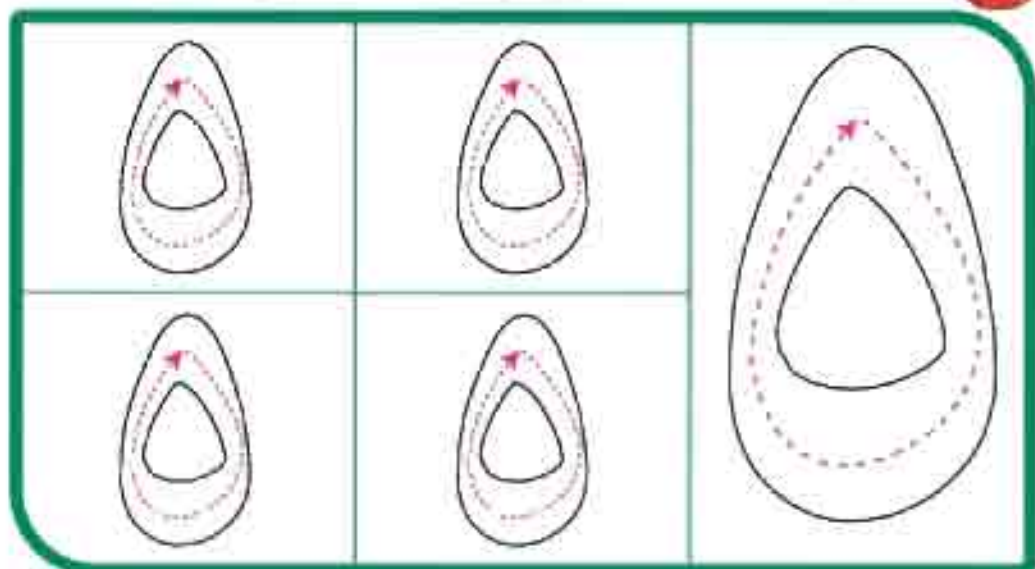
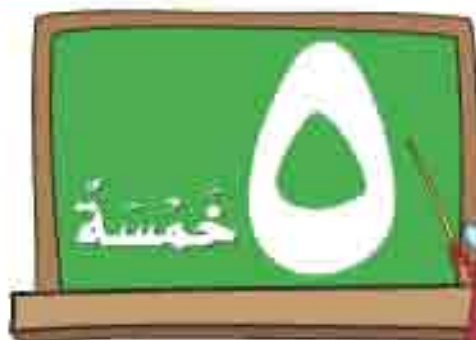
٢ البالون على يسار الطفل

٣ الطائرة على يمين الطفل

٤ الفانوس على يمين الطفل

ادعو خالتك بأن يرشدك إلى الطريق الذي يمكنك من خلاله تقديم التمتع إلى طفلك وأطفال المسلمين.

للمعلم  
والأب

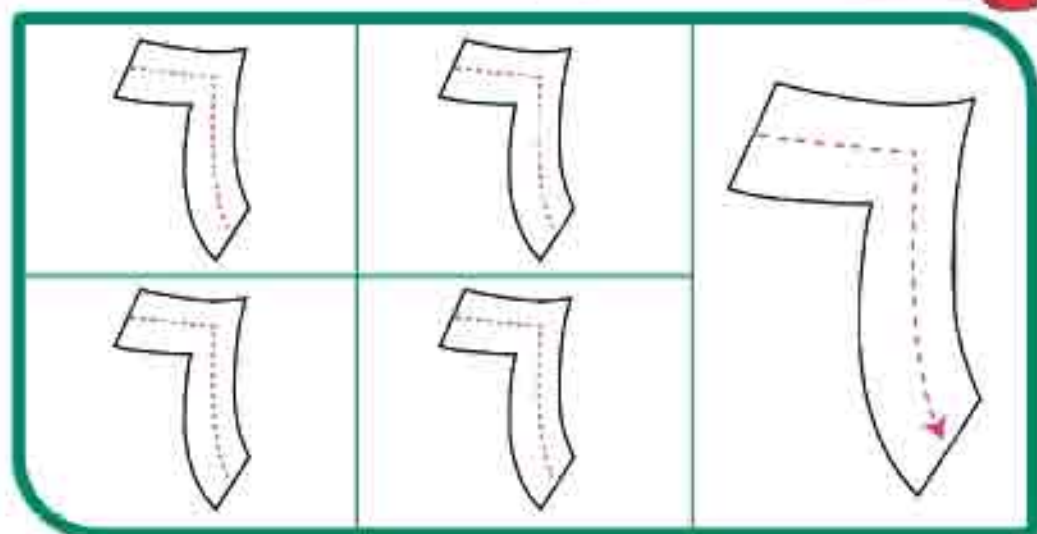
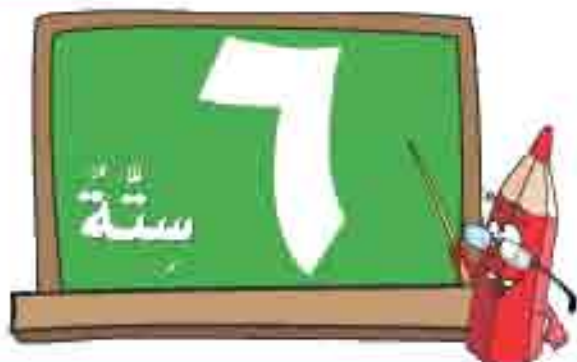
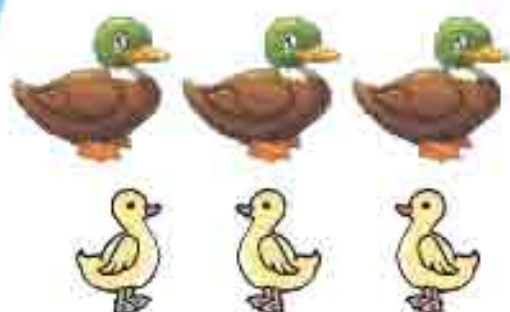


ألعاب تعليمية




يمكن مطلقاً وأنت تلعب معه من الخور عليك .

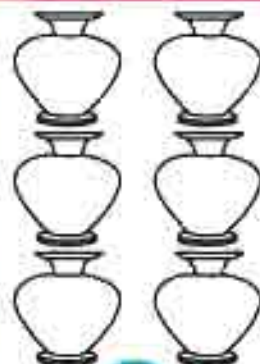
المعلم  
والأب



٥



٣



٤

لونه الأشكال طبقا للعدد في الصورة

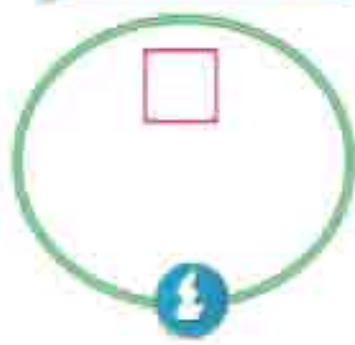
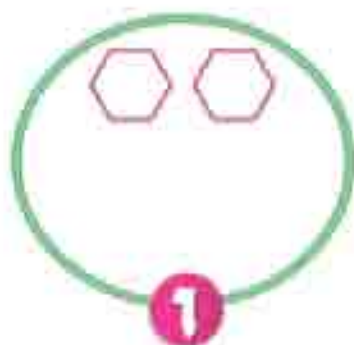
مهم جداً أن تكون هادئاً وأنت تعلم مطلقاً الصواب من الخطأ .

للمعلم  
والوالد.

عد ولون العدد المطلوب



اسم ما يساوي العدد




أكمل العدد الناقصة



المطلوب يحب التشجيع فأكثر من قول ممتاز، أحسنت.

المعلم  
والأب.

## اقرأ واولد



## عد واكتب



اجعل الصبر على مطلقك سمة لك وخاصة وأنت في أشد وقت غضبك .

للمعلم  
والأب

فوق وتحت

ضع رقم (٦) أسفل الصورة التي تعبر عن الوقت ، تحت ،  
 أعط الصورة التي تعبر عن الوقت ، فوق ،










هام جدًا قراءة الأعداد أسفل الصفحة .

للمعلم  
والأب

## مفاهيم رياضية

## أمام وخلف

رسم رقم (٤) للصورة التي تعبر عنه جهة الأمام ورقم (٣) للصورة التي تعبر عنه جهة خلف.





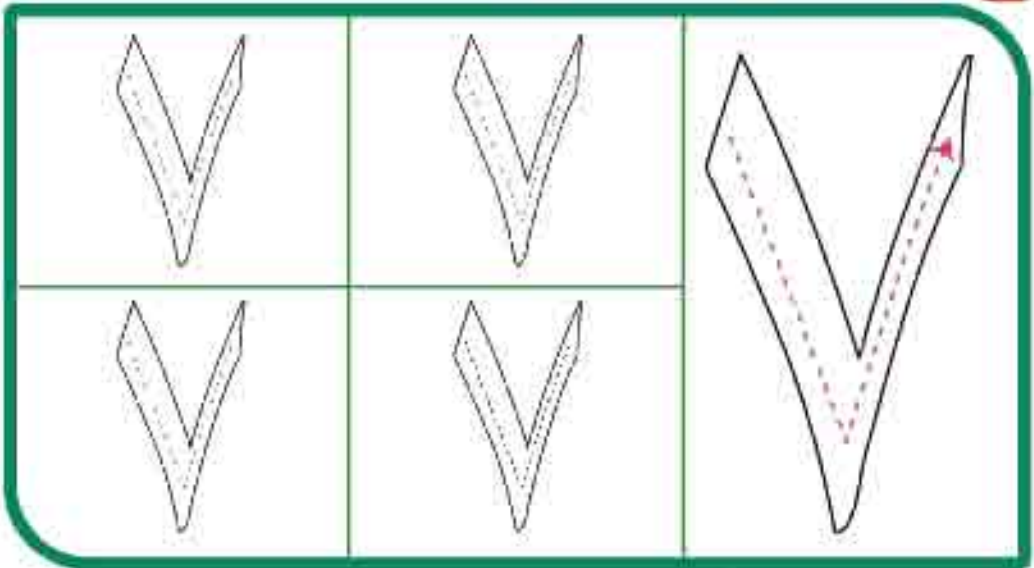





البعد عن طريقة الحفاظ على إيصال المفاهيم ولكن يتعين أن يتم التأكد من أن الطفل قد استوعب من خلال التدريبات المختلفة.

للمعلم  
والأب.

١٠ ٩ ٨ ٧ ٦ ٥ ٤ ٣ ٢ ١



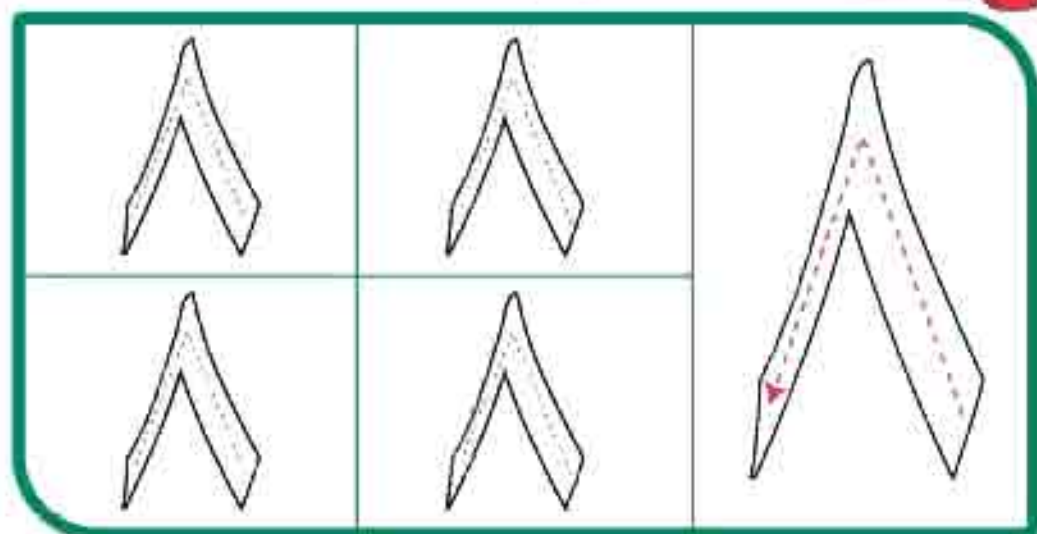
لو صحت المخرجه بالعدد الصحيح



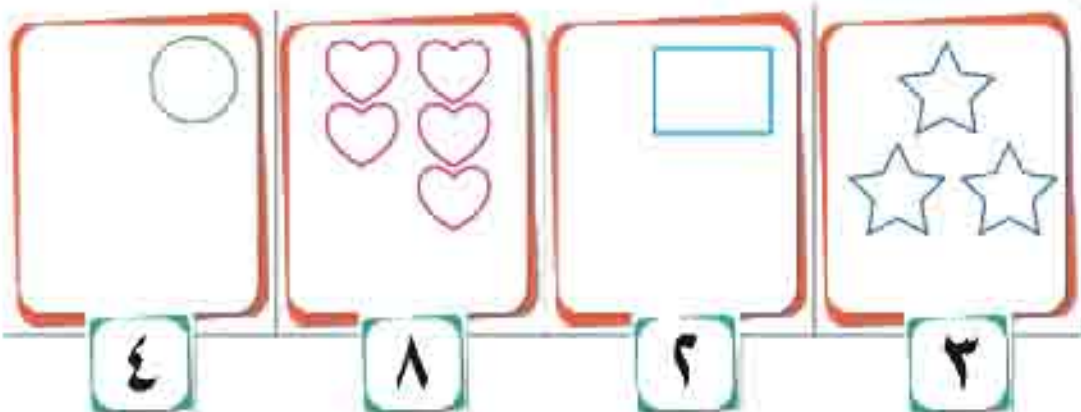
النظريات التربوية الحديثة ترفض العقوبة وإذا لجات إليها تكون معنوية وليست حسية .

للمعلم  
والطالب





اسم حتى رسومي العدد كما يفتك الأول



علم طفلك أن يسأل خالته أن يعوضه عن الشيء الذي فقدته مثل سقوط بعض أسنانه أو فقد ما معه من مال .

للمعلم  
والأب

اكتب الأرقام

٨	٧	٦	٥	٤	٣	٢	١
٨	٧	٦	٥	٤	٣	٢	١
٨	٧	٦	٥	٤	٣	٢	١
٨	٧	٦	٥	٤	٣	٢	١

عد واكتب عدد الأشكال في كل مربع








يُعتبر التخويف للطفل نوعاً من الدعوة للطفل لتكرار الخطأ ولو بشكل سري -


للمعلم  
والأب




أشرفي وضع فوق بالعدد ٦ ، وإلى وضع أمام بالعدد (٧)



لونه العدد الأكبر

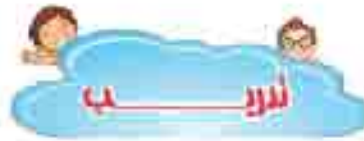


لونه العدد الأصغر



صفات يجب أن يراها الأطفال في كل من يرببهم ( الصديق ، حب الناس ، تنفيذ الوعد )

للمعلم  
والأب



صك الصورة بالعدد الال كلها

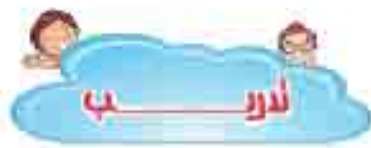


ضع رقم ( ٤ ) تحت الفلك الأكبر و رقم ( ٣ ) تحت الفلك الأصغر



لابد من مراعاة الفرق القردية بين الأطفال .

للمعلم  
والأب



أكمل العدد الناقص

٥		٣		١
٨		٦		٤

حد الأشكال التي في الصورة واكتب عدد كل شكل



<input type="text"/>	<input type="text"/>	<input type="text"/>	<input type="text"/>

العدد =

لا تنسى قراءة الأعداد أسفل كل صفحة يوميًا .

للمعلم  
والأب

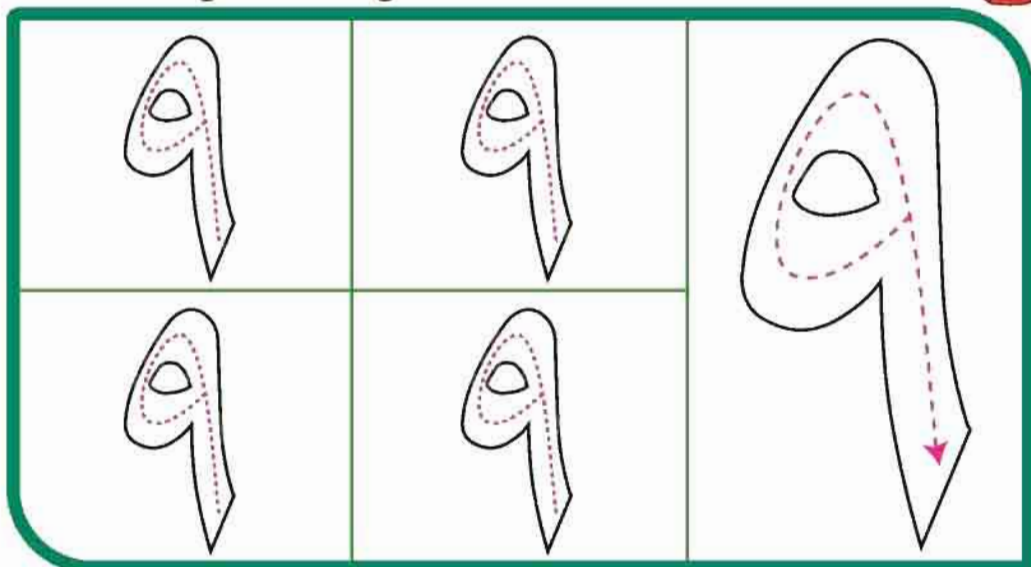
- ١٠
- ٩
- ٨
- ٧
- ٦
- ٥
- ٤
- ٣
- ٢
- ١




06c%ofl@kual

اقرأ و لون

@O@@@@O@@@@@,llc



لون و صلك المجموعة بالعدد الصحيح



لا تقارن بين الطفل واخوانه واصدقائه خاصة امامهم.

للمعلم  
والآباء.



أون حسب العدد


٩	٨	٧	٦

أون حسب العدد

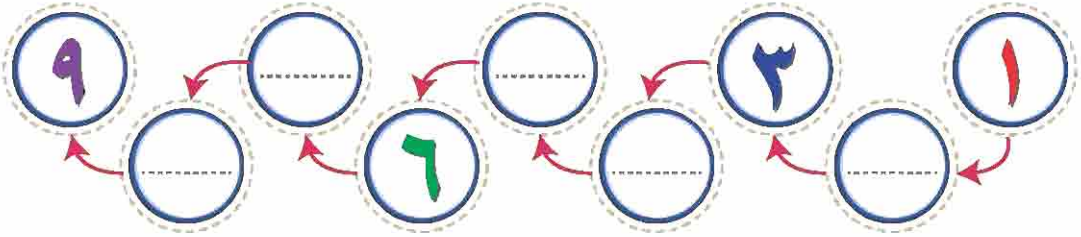
						٦
						٤
						٥

لا تركز على طفل أو طفلة معينة بالنظر أو السؤال أو المدح.

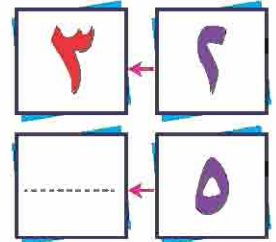
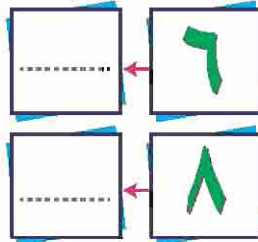
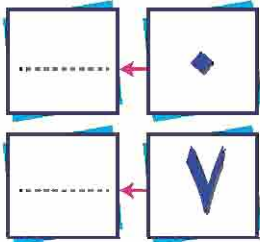
للمعلم  
والأب.



أكمل



اكتب العدد التالي






تذكر دوماً براءة أطفالنا وضعفهم يقلل من حجم غضبك عليهم .



للمعلم  
والآباء.



لون العدد الخامس




حدد المجموعة حسب العدد كما في المثال الأول



المعلم الناجح الذي لا يستخدم العقاب البدني .

للمعلم  
والأب



٥

٦

٢

تَحَدَّر من إطلاق لفظ شقي على أي طفل لأنه مخالفة شرعية وإبدائها بكلمة ( كثير الحركة )

للمعلم  
والأب

## مفهوم الصفر



◆ = عدد السمكة في الحوض الثاني



٣ = عدد السمكة في الحوض الأول



👉 ملاحظة




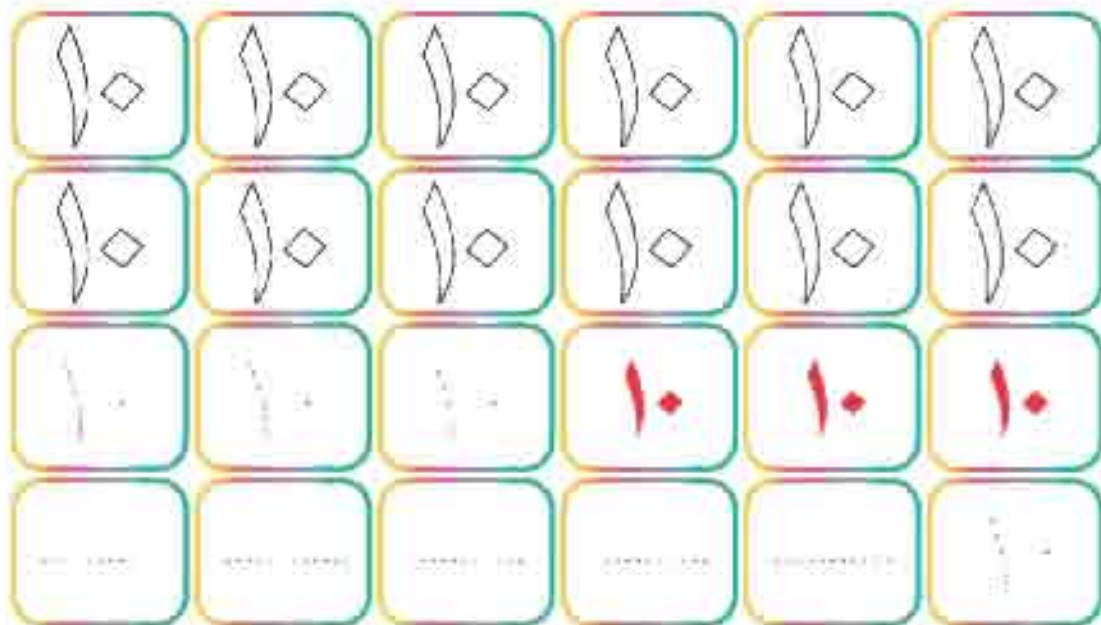
◆ = عدد الدوائر



٤ = عدد الدوائر

كن قدوة في تصرفاتك فإن الطفل يتعلم بالقدوة أكثر من التوجيهات.

للمعلم  
والأب



التخيل ضروري للمسحة النفسية للطفل ويكون من خلال الحوار مع الطفل .

للمعلم  
والأب

اكتب العدد المناسب أمام الصور













اكتب العدد الناقص حسب الترتيب

١٠	.....	.....	٧	.....	.....	٤	٣	.....	١
----	-------	-------	---	-------	-------	---	---	-------	---

تهيئة الجو الأسري الاجتماعي الجيد للطفل يساعد على انتعاش الذاكرة والتفوق الدراسي.

للمعلم  
والأب.

١٠ ٨ ٦ ٤ ٢ ٩ ٧ ٥ ٣ ١

اختيار نهاية الفصل الدراسي الأول لعام

@Ooooo@Ooooo@.llc

اسم حسب العدد

Five triangles and the number 10 in a decorative box.

Two circles and the number 6 in a decorative box.

Two stars and the number 4 in a decorative box.

عد ثم لون أشكال العدد الأكبر

Two columns of six circles each, with the number 10 in a decorative box below.

Arabic letters: س, ب, ص, ح, ي, ق, with the number 7 in a decorative box below.


Two columns of five pentagons each, with the number 9 in a decorative box below.

لا تضرب الطفل بعد الوعد بعدم الضرب حتى لا تعلمه الكذب .


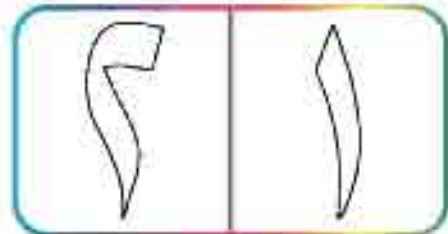
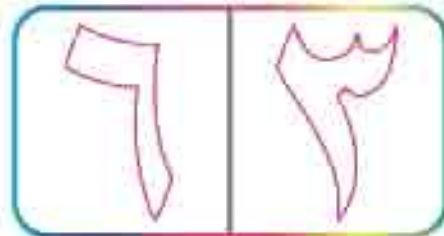
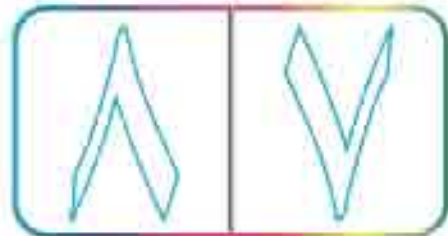
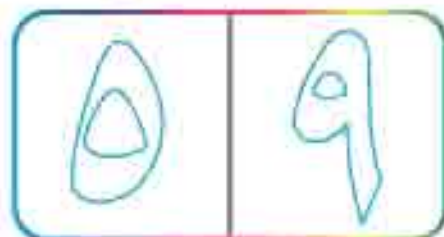

للمعلم  
والأبأ.

## نابغ اختيار نهاية الفصل الدراسي الأول لعام

ضع رقم (٨) عند اليد اليمنى ورقم (٧) عند اليد اليسرى.



اقرأ ثم لوح العدد الأكبر



تكلف الهدوء في المواقف الصعبة عامل أساسي في اكتساب هذه الصفة .

للمعلم  
والأب

اقرأ ثم اكتب العدد السابق

٢	.....
---	-------

٩	.....
---	-------

١٠	.....
----	-------

٨	.....
---	-------

٣	.....
---	-------

٤	.....
---	-------

صنع رقم (١٠) أسفل الشكل الكبير وشق (٩) أسفل الشكل الصغير



.....
-------

.....
-------



.....
-------

.....
-------



.....
-------



.....
-------



.....
-------



.....
-------

لا تحقر من طفلك ولا من عاداته وأفكاره .


للمعلم  
والأب



عد ثم صل بين الأشكال المتساوية في العدد



تتبع النقط ثم املأ كتابة الأعداد



الأطفال يحبون الابتسامة وخفة الظل وهما طريقان لكسب قلوبهم .

للمعلم  
والأب